

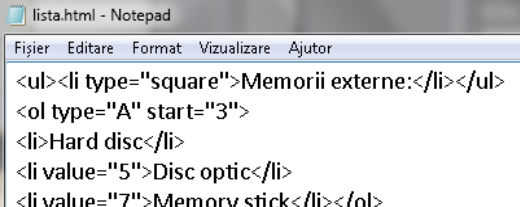
FISA DE LUCRU HTML OPTIONAL

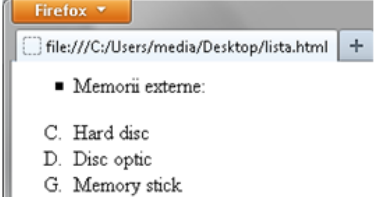
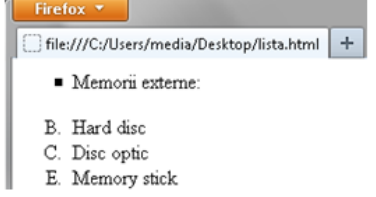
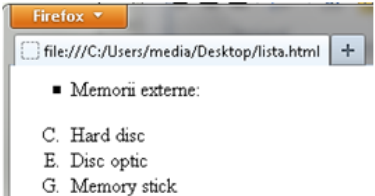
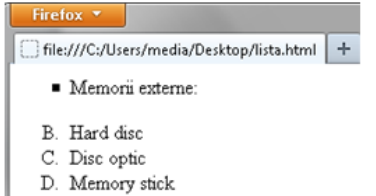

CLASA a XII-a

Profesor Bejan Daniela

Colegiul Național Pedagogic „Ștefan cel Mare” Bacău

Test HTML

1.	<p>Care dintre tag-urile de mai jos are ca rezultat inserarea imaginii "poza.jpg" ?</p> <ol style="list-style-type: none"> <code><insert> poza.jpg </insert></code> <code> poza.jpg </code> <code></code> <code><insert image="poza.jpg"></code>
2.	<p>Câte liste generează secvența de cod HTML din exemplul de mai jos:</p> <pre> Romana Chimie Biologie Fizica </pre> <ol style="list-style-type: none"> o listă ordonată cu patru elemente două liste ordonate și două liste neordonate două liste neordonate cu câte două elemente fiecare o listă neordonată cu două elemente din care prima conține o altă listă cu două elemente
3.	<p>Marcajul <code></code> realizează:</p> <ol style="list-style-type: none"> inserarea imaginii "Sigla paginii" inserarea imaginii "best_road_big" inserarea imaginii "best_road_big" cu textul alternativ "Sigla paginii" inserarea imaginii "Sigla paginii" cu textul alternativ "best_road_big"
4.	<p>În secvența de cod HTML ce număr va avea în listă elementul C#?</p> <pre> OTI2014 <li value=9> TIC PROBA TEORETICA PROBA PRACTICA C# PROBA PRACTICA PROBA PROIECT </pre> <ol style="list-style-type: none"> 2 9 10 12
5.	<p>Dacă pagina <i>lista.html</i> include următoarea secvență de cod HTML, alegeți care dintre următoarele variante va fi rezultatul afișării corecte în browser a listei corespunzătoare acestui cod.</p>  <pre> <li type="square">Memorii externe: <ol type="A" start="3"> Hard disc <li value="5">Disc optic <li value="7">Memory stick </pre>

	<div style="display: flex; flex-wrap: wrap;"> <div style="width: 50%; border: 1px dashed gray; padding: 5px;"> <p>a.</p>  </div> <div style="width: 50%; border: 1px dashed gray; padding: 5px;"> <p>b.</p>  </div> <div style="width: 50%; border: 1px dashed gray; padding: 5px;"> <p>c.</p>  </div> <div style="width: 50%; border: 1px dashed gray; padding: 5px;"> <p>d.</p>  </div> </div>
7.	<p>Ce rol are tag-ul următor <code></code> ?</p> <ol style="list-style-type: none"> inserează un hyperlink inserează o imagine de fundal inserează imaginea "pic.jpg" inserează un fișier video
8.	<p>Pagina al cărei corp conține secvența HTML din imaginea de mai jos, definește:</p> <pre> <ol type="I">TIC unitate centrala unitate de memorie dispozitive periferice MEMORIA INTERNA
 RAM
 ROM
 PERIFERICE de intrare de iesire </pre> <ol style="list-style-type: none"> o listă ordonată și două liste neordonate o listă neordonată, o listă personalizată și o listă ordonată o lista ordonată și două liste neordonate din care una este personalizată o listă ordonată formată dintr-o listă personalizată și o listă neordonată
9.	<p>Alegeți secvența corectă de cod HTML, pentru a insera imaginea „Statiuni.jpg” cu textul explicativ atașat „Mamaia”:</p> <ol style="list-style-type: none"> <code></code> <code></code> <code></code> <code><img=„Statiuni.jpg” src=„Mamaia”></code>
10.	<p>Alegeți secvența corectă de cod HTML, astfel încât în browser să se afișeze imaginea globului pământesc, ca în exemplul de mai jos:</p> <div style="text-align: center;">  </div> <ol style="list-style-type: none"> <code></code>

- | | |
|--|--|
| | <ul style="list-style-type: none">b. c. d. <IMG=glob.jpg SRC="Salut!" border=3> |
|--|--|